








## MATEMATIKA, TOR 24. 3. 2020

**Preberi si:**

**URE** so naprave za merjenje časa.

			
ROČNA URA	BUDILKA	ROČNA URA	STENSKA URA
			
STOLPNA URA	URA NA TELEFONU	SONČNA URA	

**• Reši v DZ stran 22/ 6**

**Če nimaš DZ zapiši v zvezek:**

6. Koledar je pripomoček za prikazovanje dni, mesecev, let.

Poznamo tudi naprave za merjenje časa, te imenujemo ure. Poznamo jih veliko vrst. Poimenuj jih!



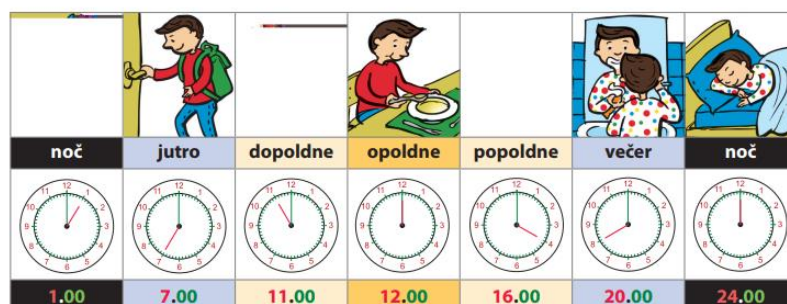
**URE:**

- ◆ ROČNA URA
- ◆ BUDILKA
- ◆ STENSKA URA
- ◆ STOLPNJA URA
- ◆ URA NA TELEFONU
- ◆ SONČNA URA

**Poglej si v DZ stran 23**

**DAN IMA 24 UR.**

**1 DAN = 24 UR**



- **Zapis v zvezek:**

**DAN** IMA 24 **UR.**

**1 DAN = 24 UR**

### **DELI DNEVA**

- JUTRO
- DOPOLDNE
- OPOLDNE (12h)
- POPOLDNE
- VEČER
- NOČ

- **DOMAČA NALOGA**

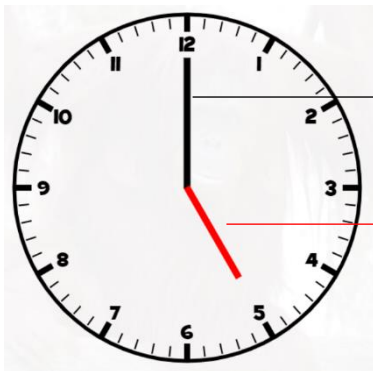
V zvezek napiši 1 stvar, ki jo delaš v določenem dnevu dneva

JUTRO	DOPOLDNE	OPOLDNE	POPOLDNE	VEČER	NOČ

- **Zapis v zvezek:**

### **URA**

V zvezek nariši uro (pomagaj si s spodnjo sliko)



**VELIK KAZALEC** – kaže minute

**MALI KAZALEC** – kaže ure