

UČENCI 7. RAZREDA: V ČETRTEK imaš na urniku:

SLJ	DRU	GUM	TJA	DRU	DOD/DOP
-----	-----	-----	-----	-----	---------

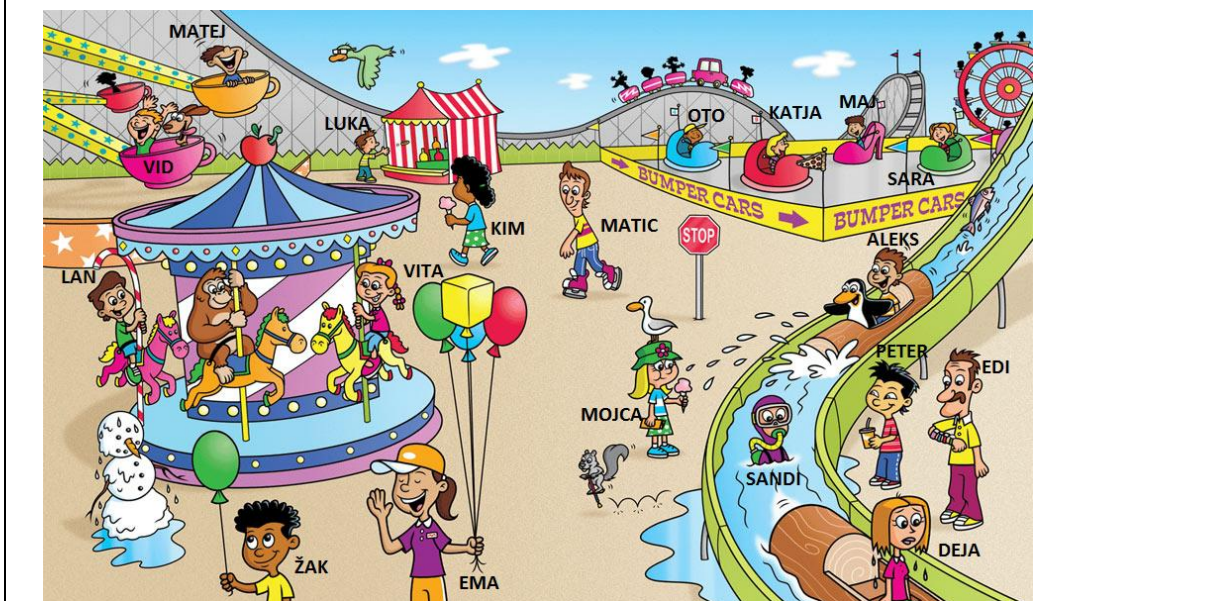
Z DELOM ZAČNI ČIM BOLJ ZGODAJ, DA TI BO OSTALO ČIM VEČ PROSTEGA ČASA.

Razredničarko lahko pokličeš od 10.00 – 13. 00. V primeru, da ne pokličeš, te po 13. uri pokliče razredničarka, da vidi kako in koliko si opravil s šolskim delom.

Vrstni red predmetov si lahko zamenjaš, glej pa, da boš isti dan opravil vse naloge.

SLOVENŠČINA

Napiši vsaj 30 povedi, kaj počnejo ljudje na sliki. Povedi naj bodo DOLGE!



DRUŽBOSLOVJE

POTREBOVAL BOŠ UČBENIK DRUŽBOSLOVJE 7

OGLEJ SI STR. 100, 101 – preberi poglavje ZGODOVINSKA OBDOBJA IN SI OGLEJ SLIKE

1.1 | ZGODOVINSKA OBDOBJA

Tako kakor delimo čas na leta, leta na mesece in mesece na tedne, tako delimo tudi zgodovino človeštva na več obdobj – dob.

Podobno kot pri dnevu razlikujemo jutro, dopoldan, popoldan, večer in noč, si lahko predstavljaj, da delimo zgodovino na različna časovna obdobja. Zgodovino delimo na:

ZGODOVINA

1. **PRAZGODOVINA** (začne se s pojavom človeka, kamena doba, kovinske dobe) – pred približno dva milijona let;
2. **STARI VEK** (Egiptčani, Babilonci, Feničani, Grki, Rimljani) pred 5000–7000 let;
3. **SREDNJI VEK** (Slovani, fevdalizem, življenje na gradovih, samostani) – pred 1500–600 leti ali od leta 476 do leta 1492;
4. **NOVI VEK** (od odkritja Amerike leta 1492 naprej) – pred 500–100 let;
5. **NOVEJŠA ZGODOVINA** (računalništvo in tehnologija) – 20. stoletje.

ŠTETJE LET



Slika 179: Prazgodovna tupa



Slika 183: Partenon v Atenah



Slika 182: Srednjeveški rokopis



Slika 180: Knečiči upoti



Slika 181: Naoka situša



Opiši zgornje slike. Poskušaj ugotoviti, v katero zgodovinsko obdobje spadajo slike.



Prazgodovina



Stari vek



Srednji vek



Novi vek



Novejša zgodovina

Časovni trak zgodovine človeštva

SPODNJE BESEDILO PREPIŠI V ZVEZEK

OBDOBJA V ZGODOVINI

Preteklost imenujemo tudi **zgodovina**.

Zgodovina nam pripoveduje, kaj se je v daljni ali bližnji preteklosti dogajalo, kako so ljudje nekoč živeli, s čim so se ukvarjali ...

ZGODOVINAR je človek – oseba, ki preučuje zgodovino.

Naloga zgodovinarjev je, da bi preteklost prikazali čim bolj resnično.

Preteklost lahko razdelimo na **ZGODOVINSKA OBDOBJA**.

- **Prazgodovina**
- **Stari vek**
- **Srednji vek**
- **Novi vek**

PISNI VIRI

KAR JE O PRETEKLOSTI
NAPISANO ALI UPODOBLJENO

PLAKATI LISTINE ČASOPISI



RAZGLEDNICE NAPISI NA STENAH



MATERIALNI VIRI

KAR SO LJUDJE V PRETEKLOSTI
ZGRADILI ALI IZDELALI

ORODJE



OROŽJE



POHIŠTVO



OKOSTJE



STAVBE



USTNI VIRI

KAR LJUDJE O PRETEKLOSTI POVEJO
ALI POKAŽEJO.

ZGODBE



PESMI



OBIČAJI



LEGENDE



ŠEGE



GLASBENA UMETNOST

V zvezek zapiši velik naslov: GLASBA RENESANSE

Preberi in zapiši v zvezek:

Glasba renesanse je svoj razcvet doživela v 16.stoletju.

Renesansa pomeni **ponovno rojstvo**.

Glavna predstavnika renesanse sta Orlando di Lasso in Giovanni Pierluigi da Palestrina.

Zapiši podnaslov: JACOB PETELIN GALLUS

Preberi:

Tudi **Slovenci** imamo pomembnega **predstavnika renesančne glasbe**, to je **Jacobus Gallus Petelin**.



Točno mesto njegovega **rojstva** ni znano (**ali Ribnica ali Idrija**). V svoji drugi polovici življenja je živel in ustvarjal v **Pragi**, kjer je tudi **umrl**.

Gallus je vse svoje skladbe napisal v **latinskem jeziku**.

Najbolj znano delo je **motet Ecce Quomodo Moritur Iustus**. V prevodu to pomeni **Glejte, kako umira pravični**.

Posnetek poslušaj na tej povezavi

<https://www.youtube.com/watch?v=mFBk1MGhYjE> ali pa v youtube vtipkaj Jacobus Gallus - Ecce, quomodo moritur iustus.

Gallus je zapustil svetovno pomembne **zbirke skladb**:

- **Opus musicum,**
- **Harmoniae morales,**
- **Moralia.**

Gallusova dela še danes izvajajo domači in tuji pevski zbori. **Za vestno in večletno prepevanje in za druge glasbene dosežke** pa glasbeniki lahko dobijo tudi **Gallusovo priznanje**.

Po Gallusu se imenuje tudi **največja dvorana v Sloveniji**, ki je v Cankarjevem domu (**Gallusova dvorana**).

Odgovori na vprašanja in jih zapiši v zvezek:

1. Kdo je slovenski predstavnik renesančne glasbe?
2. Kje se je rodil in kje je umrl?
3. V katerem jeziku je Gallus pisal svoje skladbe?
4. Katero je njegovo najbolj znano delo in zraven zapiši še slovenski prevod.
5. Za kaj lahko glasbenik dobi Gallusovo priznanje?
6. Kako se imenuje največja dvorana v Sloveniji?

ANGLEŠČINA

Rešite naloge v delovnem zvezku.

s. 75 / naloga 92

s. 76 / naloga 93, 94

s. 77 / naloga 95, 96

s. 78 / naloga 97

Če česa ne boste vedeli, mi lahko pišete na jana.vranesic@gmail.com ali pa na facebook. Vesela bom tudi, če mi pošljete slike rešenih nalog.





DOP/DODATNI POUK


Če imaš možnost **POIŠČI INTERAKTIVNE IGRA NA:**

Interaktivne igre arnes – matematika 1 - 5 – merske enote – dolžina. Vadi merjenje, pretvarjanje.

Interaktivne vaje

Domov Naravoslovni predmeti Družboslovni predmeti Ostalo



Dolžina cm

Izmeri dolžino ribe
1. vaja (na cm natančno),
2. vaja (na 1/2 cm natančno)

Pri vsakem ponovnem reševanju se naloge spreminijo. Po končanem reševanju ti računalnik ponudi možnost, da napake popraviš.

6 cm = mm
8 m = dm
3 m = cm

Pretvori dolžinske enote

Po končanem reševanju ti računalnik ponudi možnost, da napake popraviš.

236 cm = m dm cm
35 dm = m dm
17 mm = cm mm

Reši vse naloge, nato pa klikni gumb Preveri, da vidiš svojo uspešnost pri reševanju. Vse napake popravi.

Izberi pravo možnost

3 cm = mm
4 dm = cm
2 m = dm
3 km = m

Pretvarjanje dolžinskih enot

lažje naloge, težje naloge

Pri vsakem ponovnem reševanju se naloge spreminijo. Po končanem reševanju ti računalnik ponudi možnost, da napake popraviš.

